

Pracovní list – Východní Evropa II.



Práce s atlasem a slepou mapou – piš pouze čísla, vytvoř si vlastní legendu (co jaké číslo znamená).

- obtáhni hranice jednotlivých států východní Evropy – popiš do mapy jednotlivé státy
- modře obtáhni řeky a popiš je
- popiš moře a zálivy
- vybarvi vlajky států

.....
.....
.....
.....
.....
.....
.....

Připište k městům státy a vyznačte je na mapě – pište pouze čísla, hlavní města označte červeně.



- | | | |
|----------------------|--------------------------|---------------------|
| 1. Minsk | 6. Nižnij Novgorod | 11. Moskva |
| 2. Doněck | 7. Vladivostok | 12. Petrohrad |
| 3. Luhansk | 8. Novosibirsk | 13. Brest |
| 4. Lvov | 9. Oděsa | 14. Kyjev |
| 5. Archangelsk | 10. Jakutsk..... | 15. Irkutsk |

Doplňte text.

Rusko je nej..... stát světa. K Rusku náleží i oblast ležící izolovaně u moře. Evropská část Ruska se rozkládá na..... rovině. Jehličnatá tajga poskytuje obrovské zásoby Na západ Ukrajiny zasahuje pohoří největší ukrajinské řeky Dněpr a Dněstr ústí do moře. V Lotyšsku jsou významnou národnostní menšinou V Litvě je celosvětově významná těžba

Ze kterých států pocházejí fotografie? (státy napište pod fotografií)

A - Podkarpatská Rus, **B** – pravoslavný kostel na Rudém náměstí, **C** – Transsibiřská magistrála, **D** Kurská kosa



Vyberte správnou odpověď.

- | | | | |
|--|---------|----------|---------------------|
| <input type="radio"/> Krym je součástí: | Ruska | Ukrajiny | Estonska |
| <input type="radio"/> Jenisej je: | město | řeka | ryba |
| <input type="radio"/> Mezi málo hospodářsky vyspělé státy patří: | Litva | Rusko | Bělorusko |
| <input type="radio"/> Poloostrov Kola patří: | Rusku | Finsku | Estonsku |
| <input type="radio"/> Moldavsko je známé pěstováním: | brambor | rýže | vinné révy a tabáku |

Na základě popisu urči, o který stát se jedná.


- | | |
|---------------------------------------|---|
| <input type="checkbox"/> A. Ukrajina | <input type="checkbox"/> největší pobaltská republika, jantar, katolická církev |
| <input type="checkbox"/> B. Rusko | <input type="checkbox"/> tranzitní stát, Bělověžský prales, Lukašenko |
| <input type="checkbox"/> C. Bělorusko | <input type="checkbox"/> poloostrov Krym, Černobylská havárie, Podkarpatská Rus |
| <input type="checkbox"/> D. Litva | <input type="checkbox"/> federace, nerostné suroviny, Petrohrad, Sibiř |

Podtrhni evropské státy, s nimiž sousedí Ruská federace.

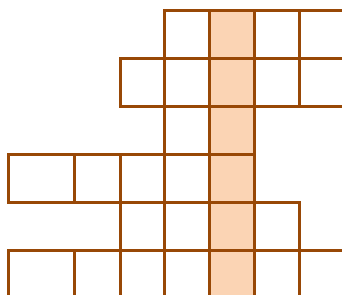
Finsko, Německo, Estonsko, Lotyšsko, Litva, Slovensko, Slovinsko, Bělorusko, Ukrajina, Dánsko, Polsko, Norsko

Doplň, co je typické pro Rusko.

- Jak se jmenuje město, v němž je známý chrám Vasila Blaženého?
- Jak se jmenuje tradiční ruská dřevěná panenka, která v sobě skrývá další menší panenky?
- Jak se nazývá ruské písmo?



Doplň do křížovky názvy ruských řek.



- řeka dělící asijskou část na Sibiř a Dálný východ
- nejdelší evropská řeka
- řeka, která ústí do Karského moře
- řeka, která protéká Kyjevem
- řeka tvořící hranici mezi Ruskem a Čínou
- nejvodnatější řeka Ruska

Nejvyšší hora Kavkazu (tajenka) má vrchol v nadmořské výšce.....